

Leçon du 23/10/19.

Aide aux devoirs et lecture.

+ évaluation de conjugaison.

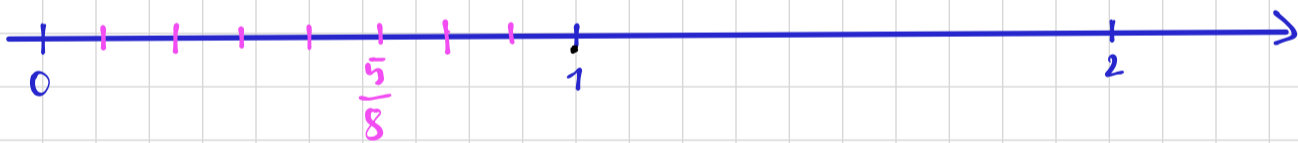
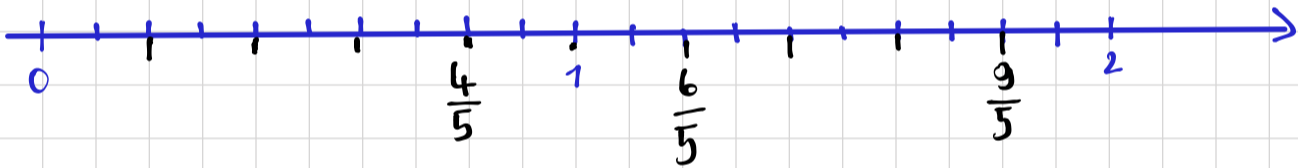
Abira: Yang possède 24 € 30 c. Il voudrait une montre à 50 €.
Quelle somme d'argent lui manque-t-il?

Opération:

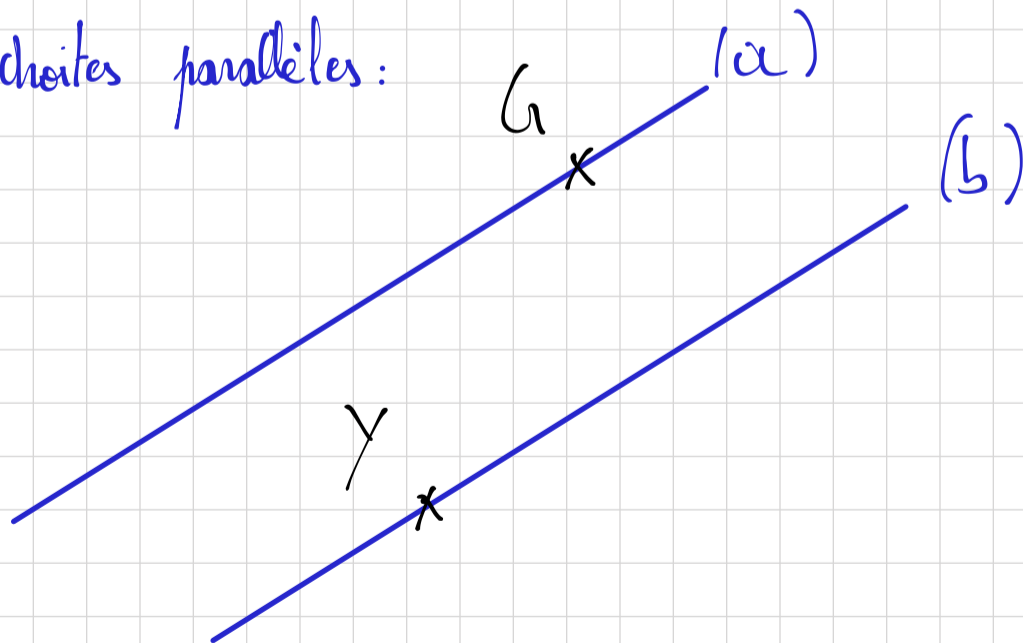
$$\begin{array}{r} 50,00 \\ - 24,30 \\ \hline \end{array}$$

Phrase réponse:

Nivek: Représente $\frac{9}{5}$; $\frac{4}{5}$; $\frac{5}{8}$; $\frac{6}{5}$ avec des droites graduées. Puis, classe ces fractions dans l'ordre croissant.



Trace deux droites parallèles:



Abira: Combien de centimes font 6 € 30 cent?

$$6\text{€} = 600 \text{ cent}$$

$$600 + 30 = 630 \text{ centimes.}$$

Lors d'un vide grenier, Lama a vendu son vieux nounours à 2€, son pouyon à 3€50c, son premier imagier à 80c. Elle dit qu'elle a gagné 5€30c. A-t-elle raison ?

$$\begin{array}{r} 2,00 \\ + 3,50 \\ + 0,80 \\ \hline \end{array}$$

Nishita: Écrire une phrase avec le mot infirmière:

L'infirmière soigne le malade.

Écrire une phrase avec le mot seringue.

On se sert d'une seringue pour faire une piqûre.

Abina: À la boulangerie, Juliette achète un rochon en pâte d'amande à 2€. Elle n'a que des pièces de 20c. Combien de pièces doit-elle donner à la vendeuse ?

Elle doit donner 10 pièces de 20 centimes pour faire 2€.

Pour le 30/10/19 Répondre aux questions sur le serpent arc-en-ciel.

Contrôle de conjugaison.

Conjuguer le verbe **aimer** au présent, futur simple, imparfait et passé simple de l'indicatif.

