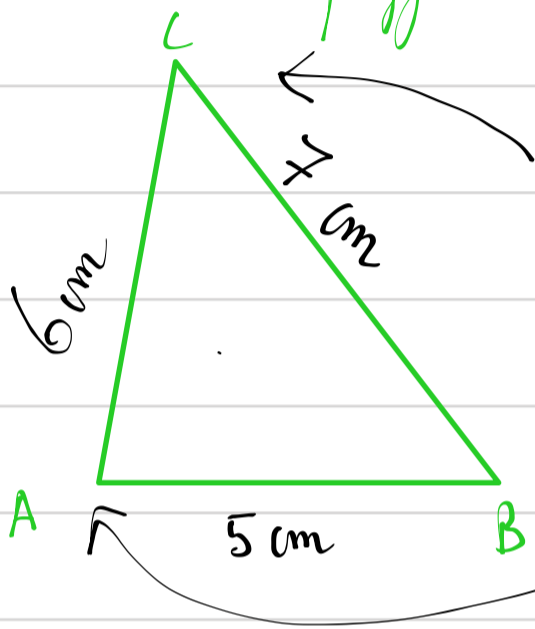


Léonce du 04/11/19.

Géométrie, lecture et passé-composé.

1<sup>ère</sup> partie: Tracer un triangle.

Un triangle est un polygone fermé qui possède 3 côtés:



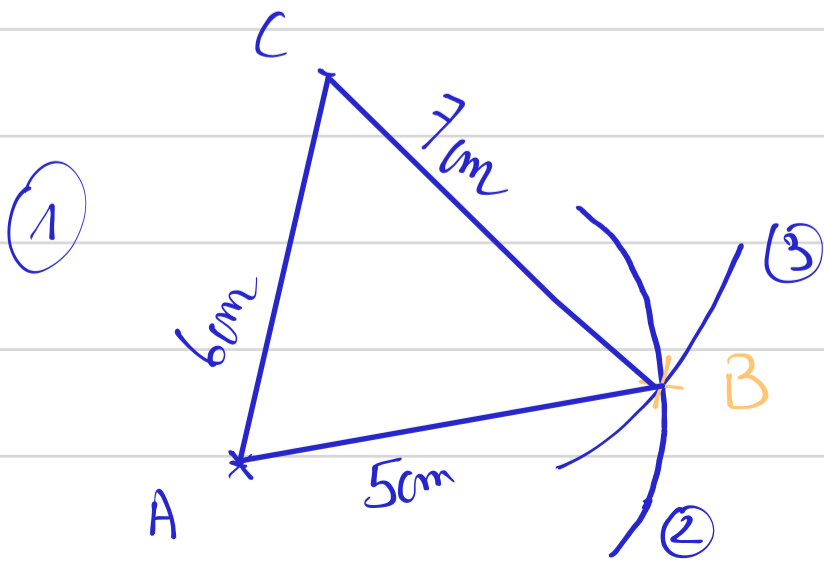
Chaque sommet est appelé par une lettre.

Le triangle quant à lui, est appelé: **ABC**.

Chaque côté possède une mesure. Par exemple, AC mesure 6 cm. AB mesure 5 cm et CB mesure 7 cm.

Méthode: comment tracer un triangle dont on connaît les mesures?  
Nous allons tracer le triangle vert ou plus haut:

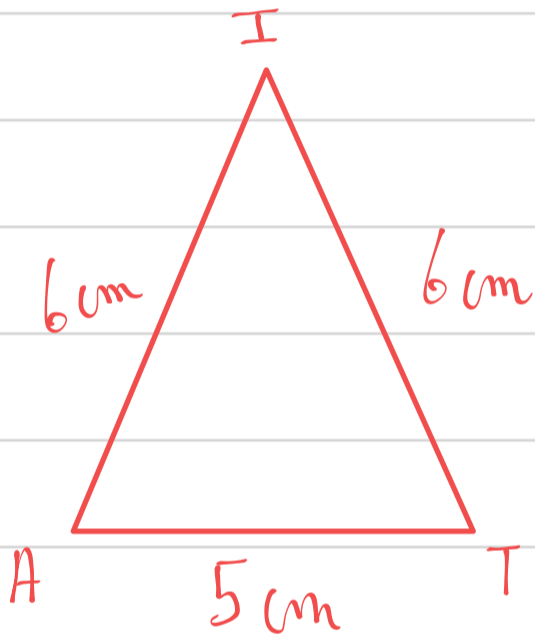
1) On commence par tracer un des côtés



2) On place la pointe du compas au point A et on ouvre le compas de 5 cm et on fait un arc-de-cercle

3) On ouvre le compas de 7 cm. On place la pointe du compas en C. On refait un arc de cercle.

Evaluation: Tracer le triangle suivant en vraies grandeurs:



Deuxième partie: le passé composé.

Le passé-composé est un temps composé de l'indicatif qui sert à décrire les actions terminées du passé.

Exemple: \* Hier, j'ai mangé une pomme.  
\* Le matin, je suis allé à l'école.

Construction du passé-composé: auxiliaire avoir ou être au présent  
+ participe passé.

Exemple: le verbe danser au passé composé:

j'ai dansé.

tu as dansé

il, elle, on a dansé

nous avons dansé

vous avez dansé

ils, elles ont dansé.

